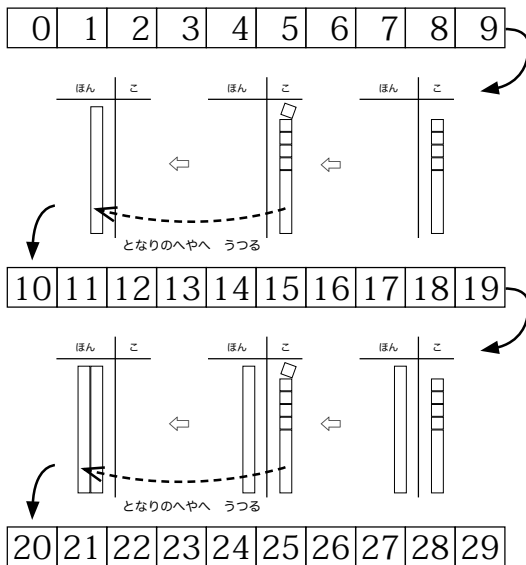


# すうじが2つならぶかず (2けたのかず)

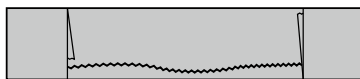
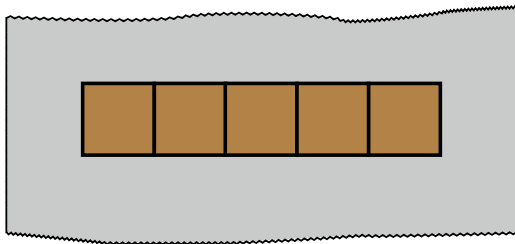


ねん      くみ

---

なまえ

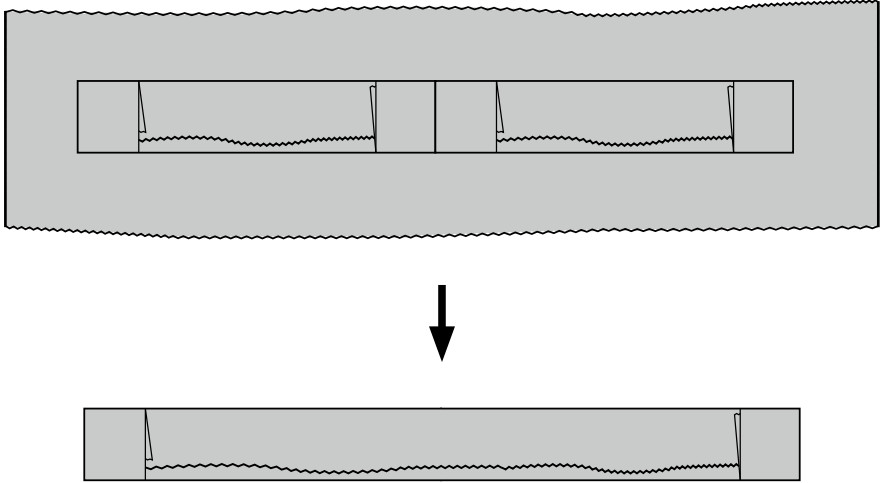
あるみほいーる  
アルミホイールのうえに ちょこれーと  
チョコレートを5つ  
ぼうのように ならべて、あるみほいーる  
つ  
みます。せんせいに していただきます。



これを もうひとつ つくります。



それから、このふたつをくっつけて<sup>あるみほいーる</sup>アルミホイール  
で つつみます。



このぼうのかたちになった つつみには、<sup>ちよこ</sup>チョコレート<sup>れーと</sup>が 5 と 5 をあわせたかず<sup>ちよこ</sup> はいっています。

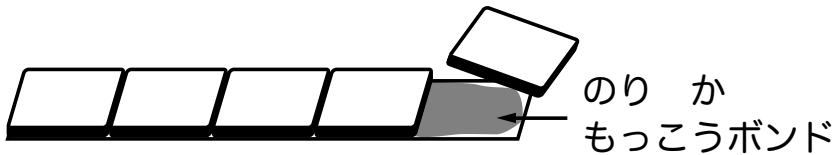
5 と 5 をあわせたかずを 「じゅう」といいます。

このぼうのかたちをした <sup>ちよこ</sup>チョコレート<sup>れーと</sup>のつつみの  
ことを 「じゅうの<sup>ちよこ</sup>チョコレート<sup>れーと</sup>たいる」といいます。

ここに ほんものの <sup>たい</sup>る タイルがあります。5こ わたします。

こちらは かみの 5のぼう<sup>たい</sup>る タイルです。おもてが びんづめ<sup>たい</sup>る タイルで、うらが <sup>たい</sup>る かんづめ タイルです。

ほんものの<sup>たい</sup>る タイルを びんづめ<sup>たい</sup>る タイルがわに のり か もっこう<sup>ぼん</sup>ど ボンドで はりつけましょう。



はりつけたら <sup>せろ</sup>はんてーぶ セロハンテープを まぎつけます。

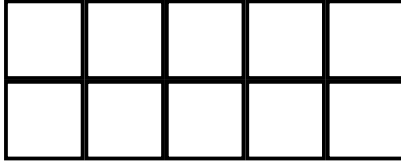


セロテープをまく

おなじものを 6こ つくります。

できた6この 5のぼう<sup>たい</sup>る<sup>る</sup>を おもてにしたり  
うらにしたりして ならべます。

(1) 上下にならべる



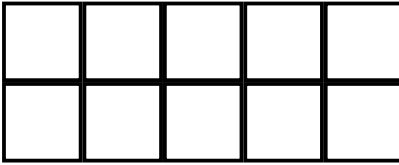
のこっている 4この 5のぼう<sup>たい</sup>る<sup>る</sup>で あ  
と2つ かんがえて みましょう。

(2) よこにつなげてならべる




のこっている 4この 5のぼう<sup>たい</sup>る<sup>る</sup>で あ  
と2つ かんがえて みましょう。

5のぼう<sup>たいる</sup>タイルの ならべかたは いろいろあります。したのぜんぶが かんがえられましたか。



うえと したが ぎやくでも  
いいです





みぎと ひだりが ぎやくでもいいです



どれもみな 5と5をあわせたかず なので「じゅう」です。

せんせいから ほそながい かみを 3まい いただきますしょう。

そのかみの上に よこに ならべてできた 「じゅう」のぼう<sup>たいる</sup>タイルをのせ、セロハン<sup>せろはんてーぷ</sup>テープを まきつけます。3ぼん つくります。



うらは、どれも 「じゅうのかんづめタイル」です。

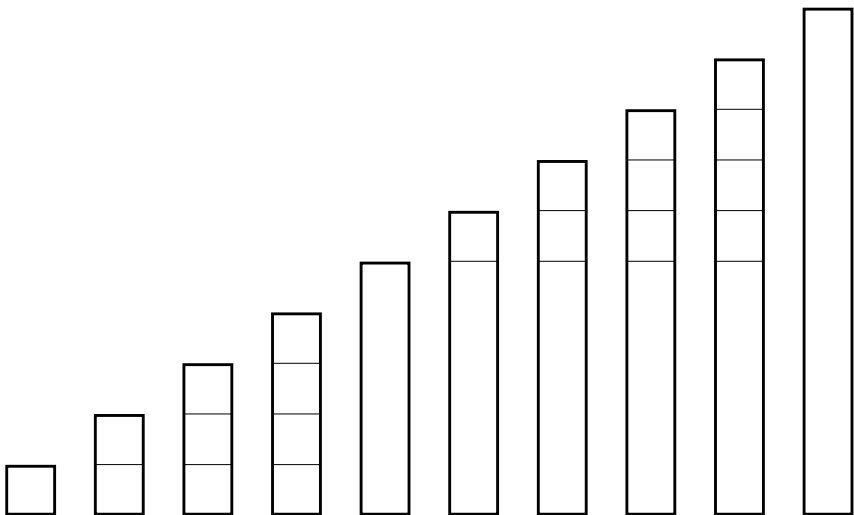
「じゅうの<sup>ちよこれーとたいる</sup>チョコレート<sup>たいる</sup>タイル」は、「じゅうのかんづめ<sup>たいる</sup>タイル」とおなじことです。どちらも なかみが みえませんが、かずは「じゅう」です。

これからは、「じゅう」は、この「じゅう」のぼうタイルを つかいます。

### 【れんしゅう 1】

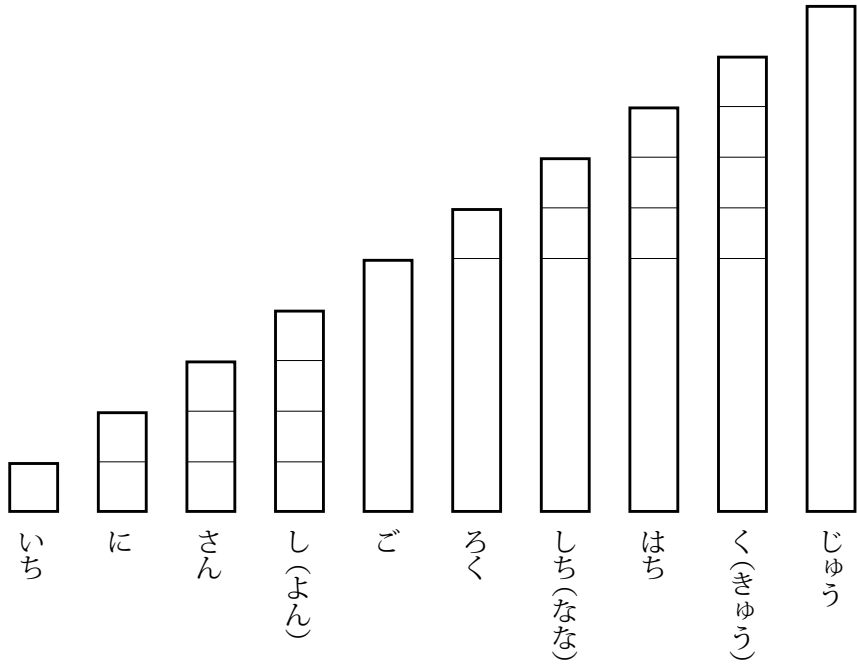
したのかずを ひだりから こえにだして よみましょう。

「じゅう」は 9より1おおいかずです。





# 【れんしゅう 1 のこたえ】



# 「じゅう」のぼう<sup>たい</sup>る<sup>る</sup>を

なんぼんか あつめると

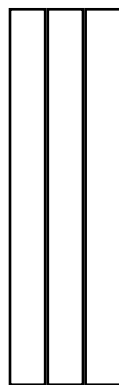
「じゅう」のぼう<sup>たい</sup>る<sup>る</sup>は あつめるとに  
「じゅう」ずつ おおきなかずになります。こえにだ  
して よんでみましょう。



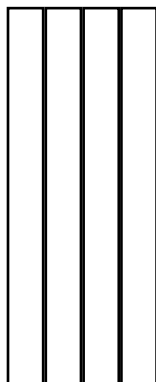
じゅう




にじゅう




さんじゅう



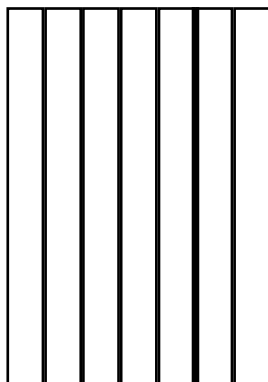
よんじゅう  
しじゅう




ごじゅう




ろくじゅう



ななじゅう  
しちじゅう



はちじゅう



きゅうじゅう

## 【れんしゅう 2】

「じゅう」のぼう<sup>たいる</sup>タイルを 3ぼんもって、3にんでグループになります。ぼう<sup>たいる</sup>タイルは みんなのまんなかに おきます。ぼう<sup>たいる</sup>タイルを つかって かずをあてる もんだいを だしあいましょう。

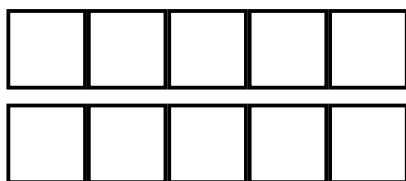
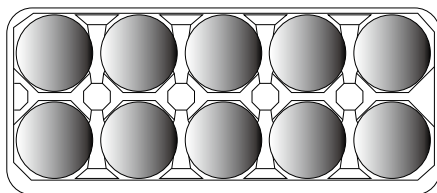
ここに たまごパックがあります。このたまご  
パックのなかには、たまごが なんこ はいるでしょ  
うか。みんなで かぞえてみましょう。

「いち、に、さん、し、ご、  
ろく、しち、はち、く、じゅう」

たまごが「じゅう」 はいることがわかりました。

### 【もんだい 1】

「いち」から かぞえて 「じゅう」になったので、  
たまごが「じっこ」 はいることが わかりました。で  
も、もっとべんりな かんがえは ないでしょうか。  
したの ヒントのえをみて、かんがえましょう。



## 【もんだい 1 の答え】

たまごパックは 5つのへやが うえとしたにあるので、5と5をあわせたかずだけ たまごがはいります。5と5をあわせたかずは 「じゅう」なので、「いち」から かぞえなくても たまごが「じっこ」はいることが わかります。

てのゆびのかずも みぎてが5 ひだりても5 なので、あわせて「じゅう」です。

## 【さぎょう】

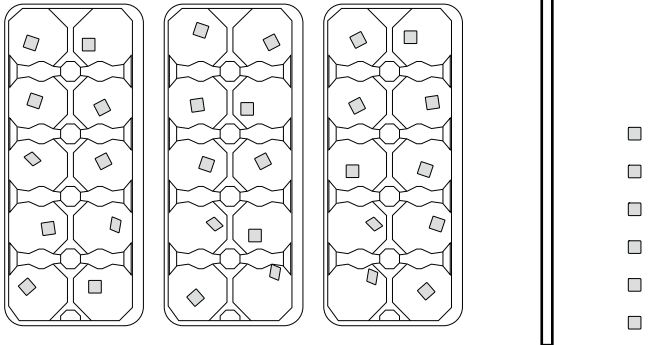
ここに せともののタイルが たくさんあります。たまごパックをつかって かずをかぞえましょう。だれか やってくれるひとは いませんか。

たまごパックが3つと 6のこりました。

このかずは、「じゅう」が3こと ばらが6こ なの  
ので、「さんじゅう」と「ろく」をあわせた かずです。

このかずのことを「さんじゅうろく」といいます。

したのずのように ひだりに たまごパックを  
みぎに ばらの<sup>たいる</sup>タイルを おきます。そして まん  
なかに ぼうをおいて しきります。そのしたに「3  
じゅう<sup>ろく</sup>6」とかきます。せんせいに していただきま  
しょう。



さん  
3 じゅう

ろく  
6

せんせいに していただいたことと おなじこと  
を「じゅうのぼう<sup>たいる</sup>タイル」と「5のぼう<sup>たいる</sup>タイル」と「ば  
らタイル」をつかって じぶんのつくえのうえで  
してみましょう。

① 3じゅう になるように、じゅう<sup>たいる</sup>タイルを つ  
くえのうえに おきましょう。たてむきの か  
んづめ<sup>たいる</sup>タイルにします。

② 6は 5と1なので、5のぼう<sup>たいる</sup>タイルを つくり  
ます。

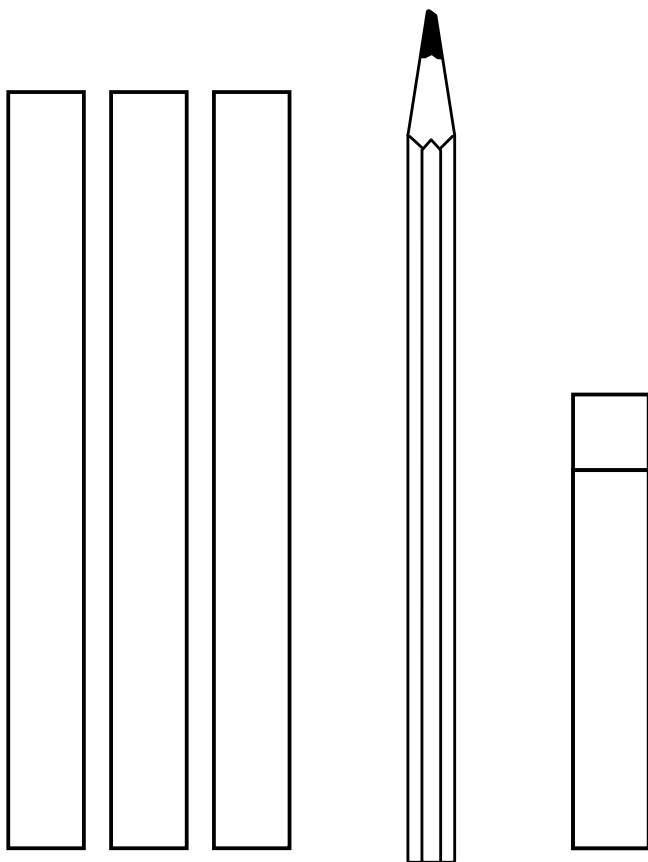
せんせいから「かみの5のぼう<sup>たいる</sup>タイル」と「せ  
ともの<sup>たいる</sup>タイルを6こ」いただいて、3<sup>ページ</sup>と  
おなじように、5のぼう<sup>たいる</sup>タイルを つくります。

③ 5のぼう<sup>たいる</sup>タイル をつくえのうえに たてむ  
きのかんづめ<sup>たいる</sup>タイルにして おきます。じゅう  
<sup>たいる</sup>タイルの みぎがわに おけましたか。

④ のこった1つの<sup>たいる</sup>タイルは 5のぼう<sup>たいる</sup>タイルのう  
えにおきます。

しきりのぼうは えんぴつをつかいます。さて、  
えんぴつは どこにおくとよいでしょうか。わかっ  
たらおいてみましょう。

こんなふうにおけましたか。





せんせいから <sup>※1</sup>かみをいただきますよう。

いえのなかに 2つのへやがあります。

ぼらの<sup>たいる</sup>タイルは、1こ、2こ、3こ というように「こ」でかぞえるので、みぎのへやを「こ」のへやということにします。

「じゅう」の<sup>たいる</sup>ぼうタイルは、1ぽん、2ほん、3ぼん というように「ほん」でかぞえるので、ひだりのへやを「ほん」のへやということにします。

それでは <sup>たいる</sup>ぼうタイル3ぽんを「ほん」のへやに6こぶんを「こ」のへやに いれましょう。

したに あいたところがあるので、「ほん」のへやのせんのしたに3を「こ」のへやのせんのしたに6を かきましょう。

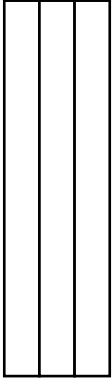

「3ぽん6こ」で「さんじゅうろく」です。

※1「かみ」64ページ



# 【もんだい2】

たいる  
 タイルをみて かずを いいましょう。

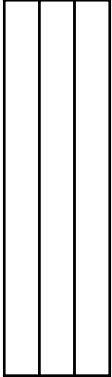
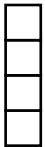
〈きれい〉

ほん	こ
	



「3ほん8こで さんじゅうはち」

ほん	こ
	

「○ほん○こで ○じゅう○」

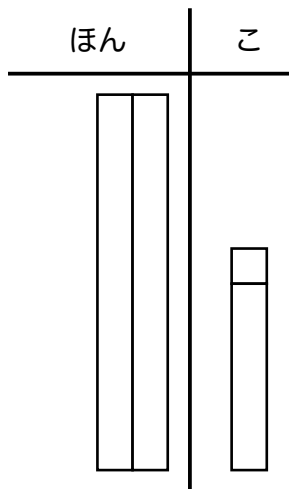
ほん	こ
	

「○ほん○こで ○じゅう○」

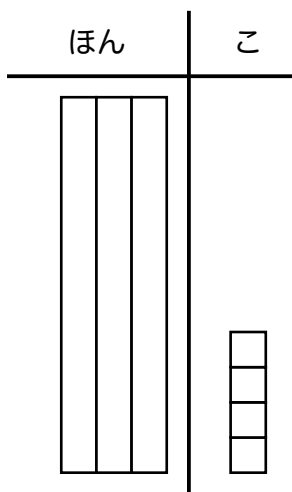
ほん	こ
	

「○ほん○こで ○じゅう○」

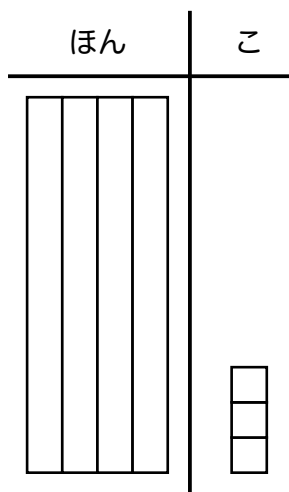
# 【もんだい2のこたえ】



「2ほん6こで にじゅうろく」



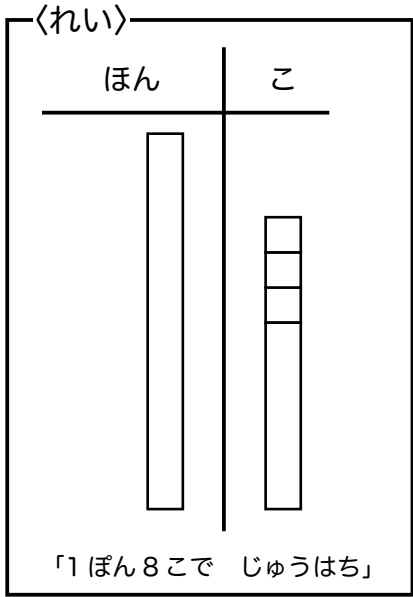
「3ほん4こで さんじゅうよん(し)」



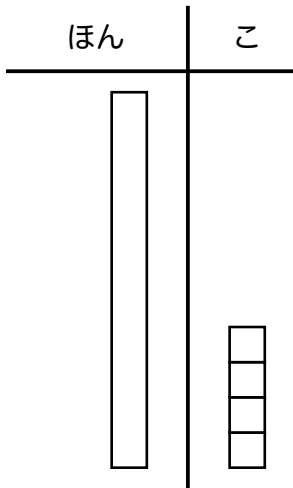
「4ほん3こで よん(し)じゅうさん」

### 【もんだい3】

<sup>た</sup>いる  
 タイルをみて かずを いきましょう。

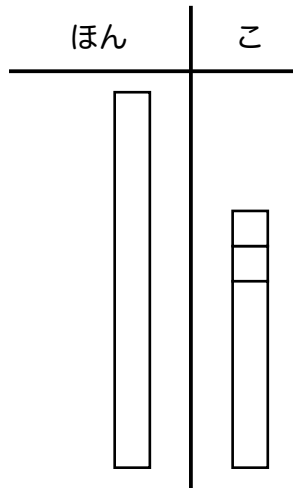


1ほんのばあいは  
 「いちじゅう」とは  
 いいません。



「○ほん○こで

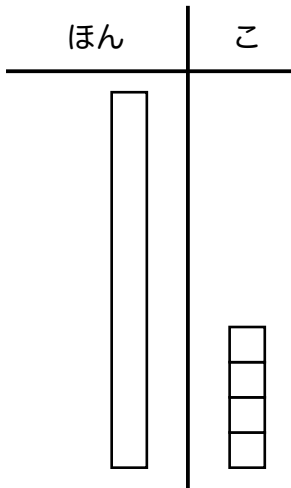
」



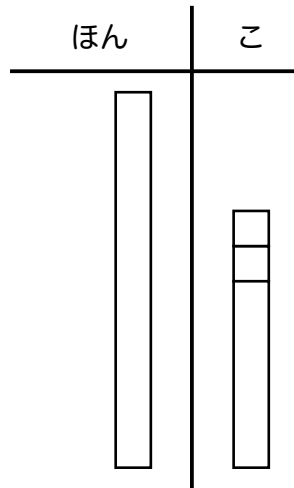
「○ほん○こで

」

# 【もんだい3のこたえ】



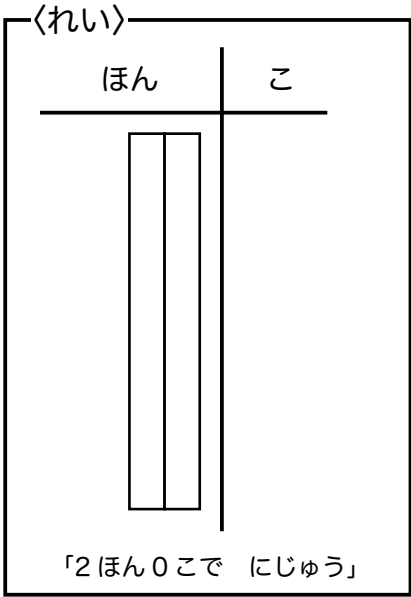
「1ほん4こで じゅうよん(し)」



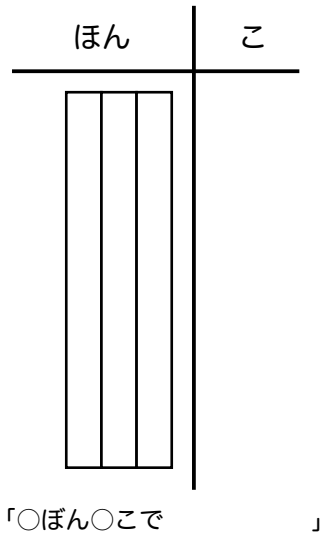
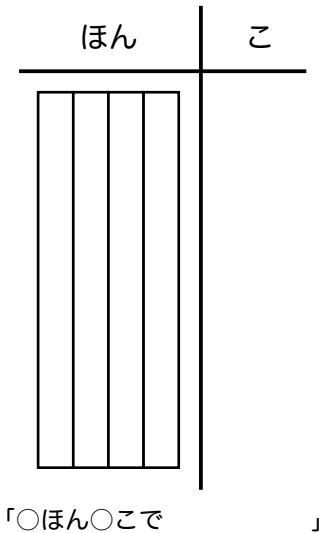
「1ほん7こで じゅうしち(なな)」

# 【もんだい4】

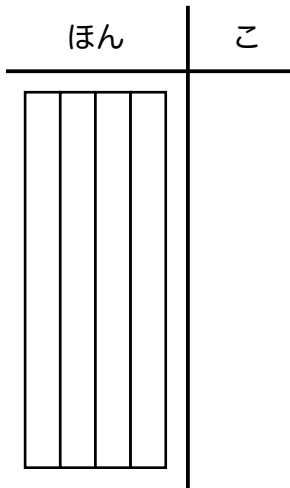
<sup>た</sup>いる  
 タイルをみて かずを いいましょう。



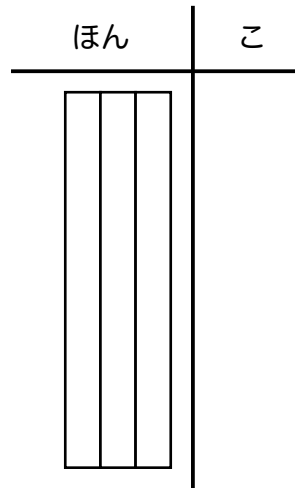
0このばあいは  
 「にじゅうれい」  
 とはいいません。



# 【もんだい4のこたえ】



「4ほん0こで よん(し)じゅう」



「3ほん0こで さんじゅう」

# 【もんだい5】

かずをよんで <sup>たい</sup> <sup>いる</sup> タイルを かきましょう。

〈れい〉

ほん	こ

「にじゅうろく」

かずだけ てんせんを  
なぞりましょう。

ほん	こ

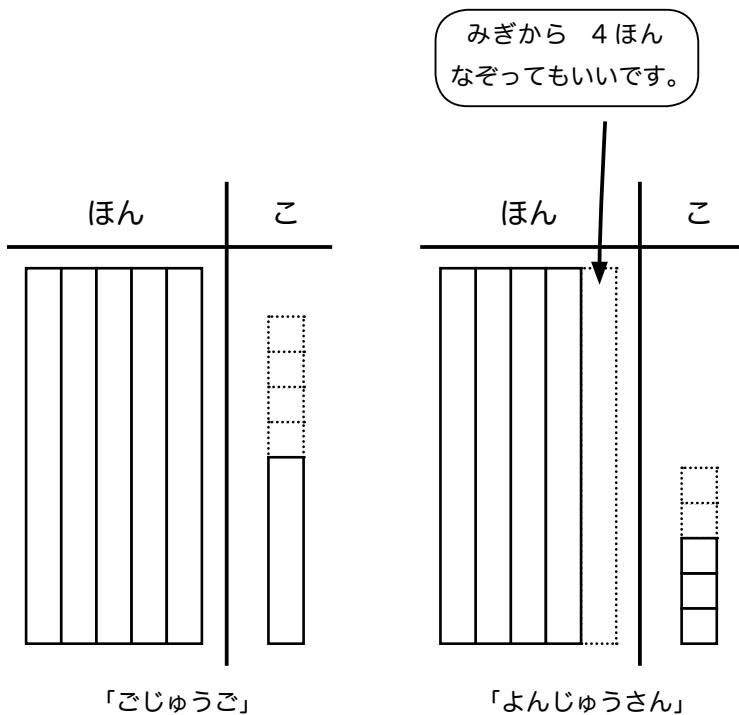
「じゅうご」

ほん	こ

「よんじゅうさん」

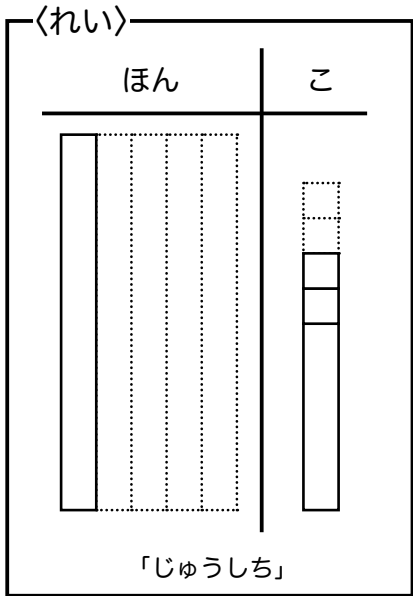


# 【もんだい5のこたえ】

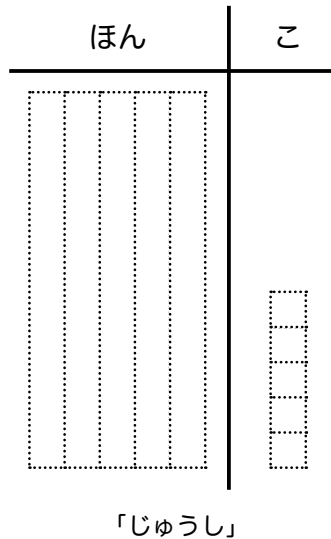



# 【もんだい6】

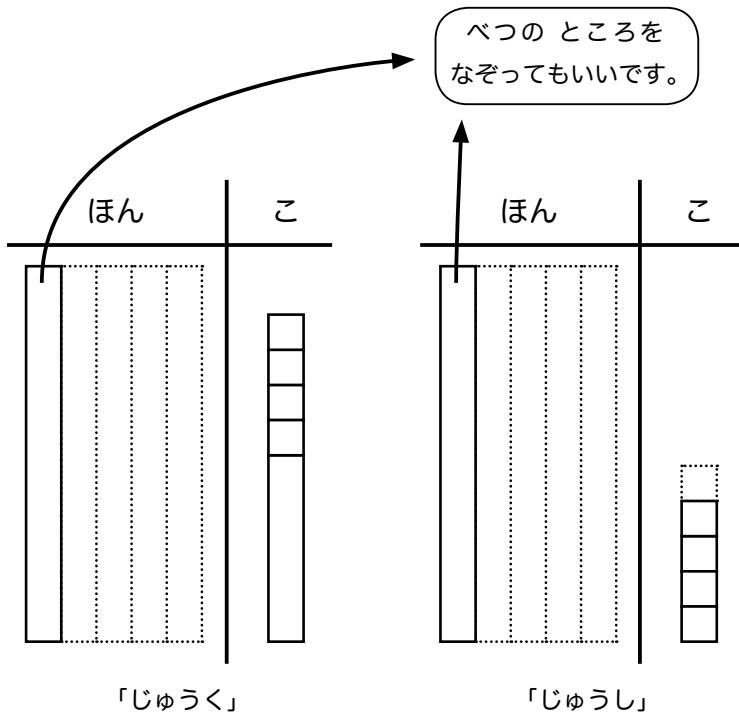
かずをよんで <sup>たい</sup> <sup>いる</sup> タイルを かきましょう。



かずだけ てんせんを  
なぞりましょう。



# 【もんだい6のこたえ】



# 【もんだい7】

かずをよんで <sup>たい</sup> <sup>いる</sup> タイルを かきましょう。

〈れい〉

ほん	こ

「よんじゅう」

かずだけ てんせんを  
なぞりましょう。

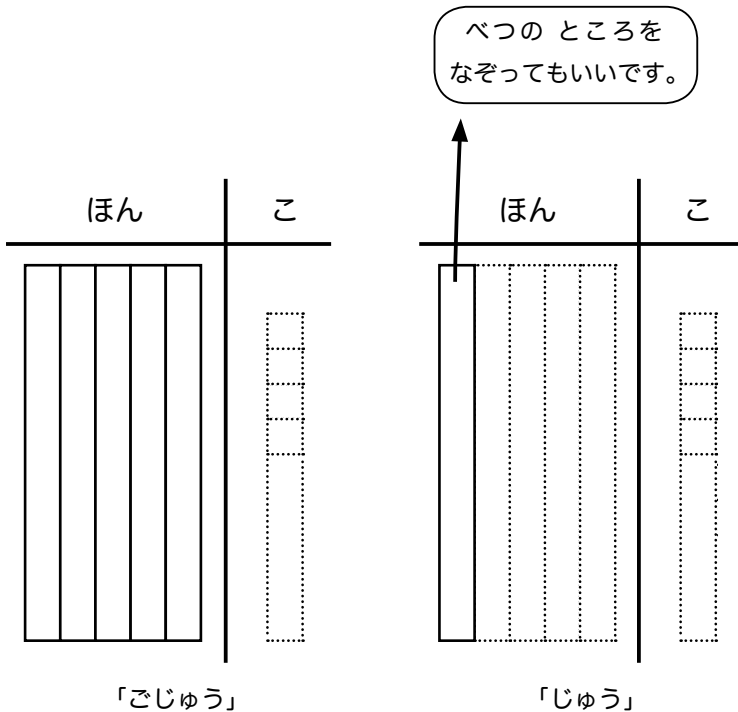
ほん	こ

「ごじゅう」

ほん	こ

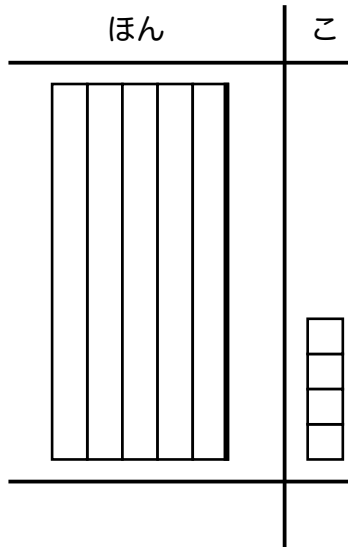
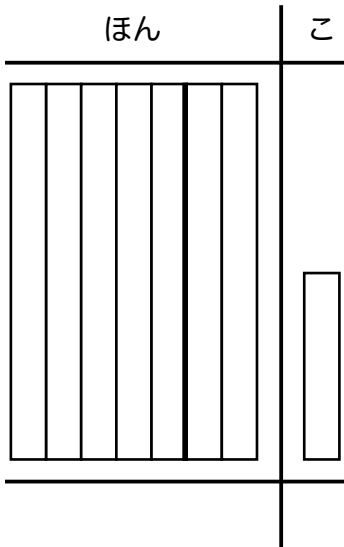
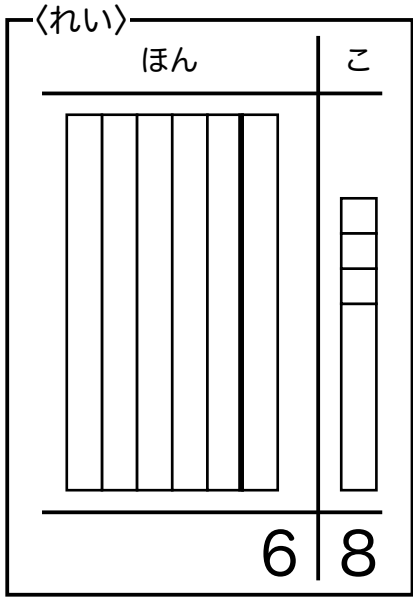
「じゅう」

# 【もんだい7のこたえ】

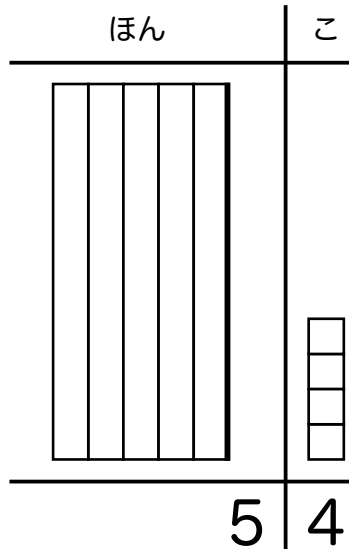
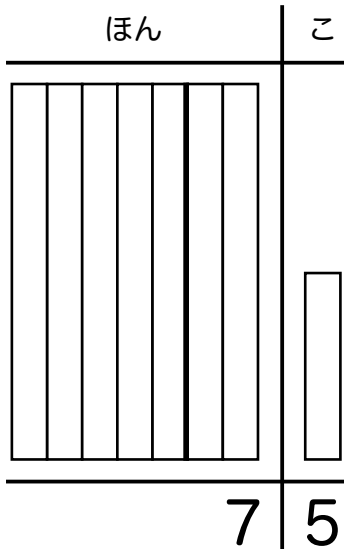


# 【もんだい 8】

たいる  
 タイルをみて すうじを かきましょう。

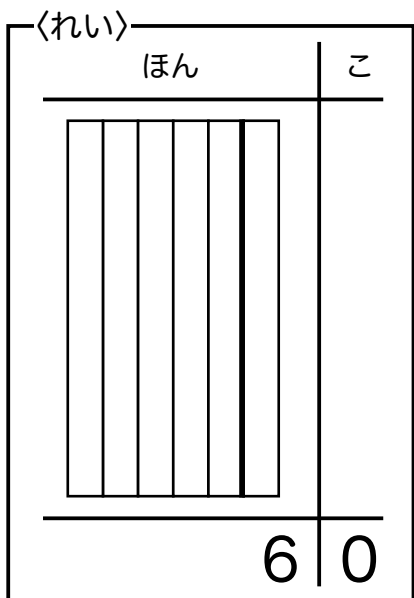


【もんだい 8 のこたえ】

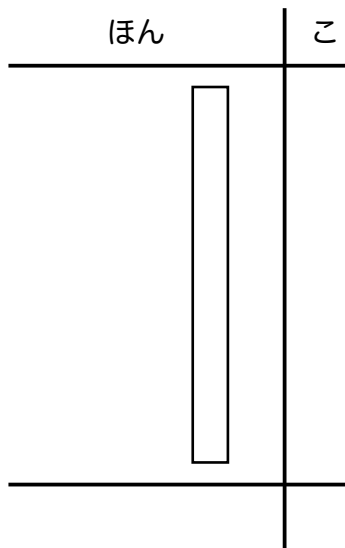



# 【もんだい9】

たいる  
タイルをみて すうじを かきましょう。

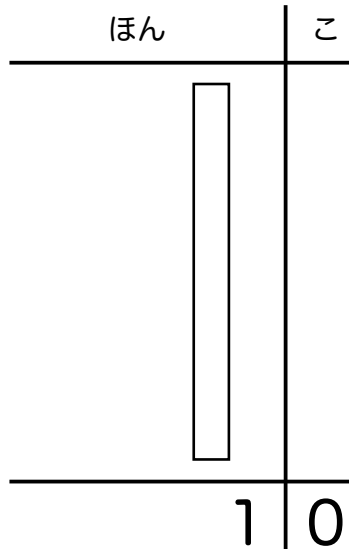



0この「0」を かき  
わすれないようにしま  
しょう。



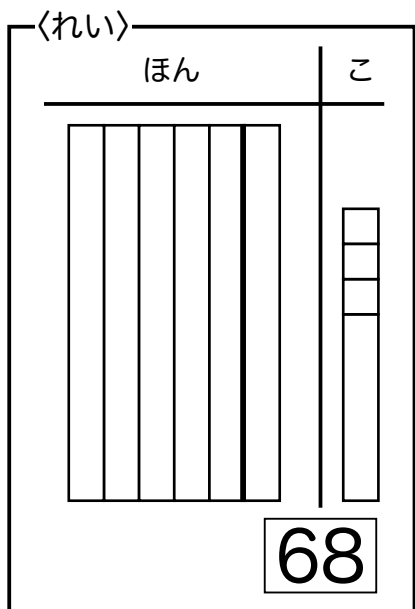


【もんだい9のこたえ】

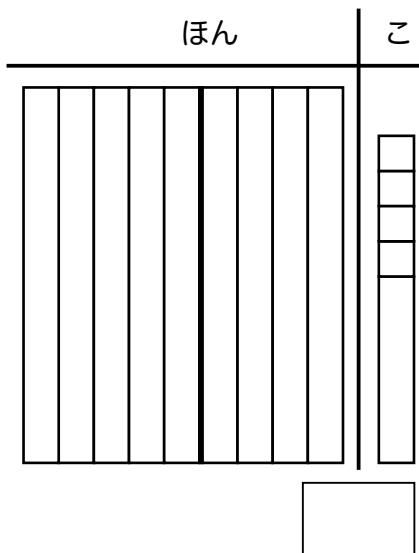
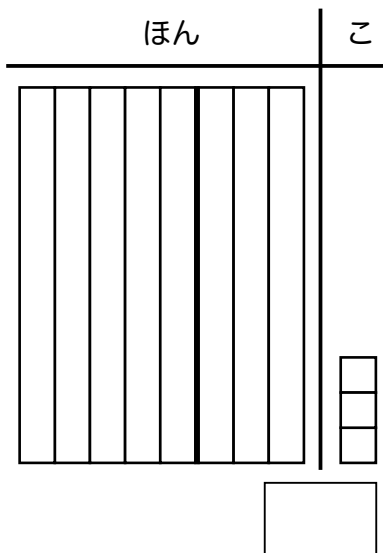


# 【もんだい 10】

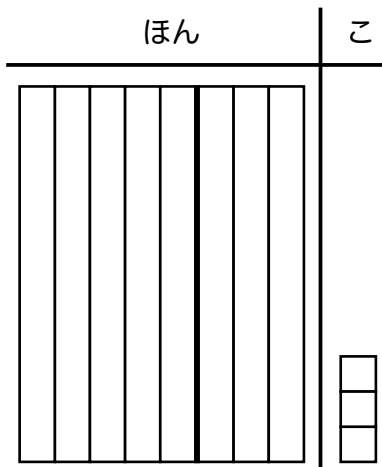
た いる  
 タイルをみて すう  
 じを しかくのなかに  
 かきましょう。



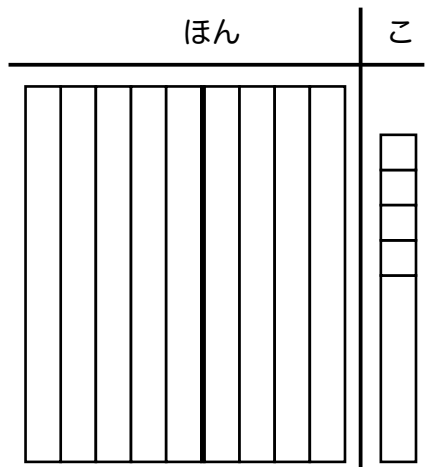
すうじをかくときは  
 ほんのかず「6」を  
 さきにかきます。



【もんだい 10 のこたえ】



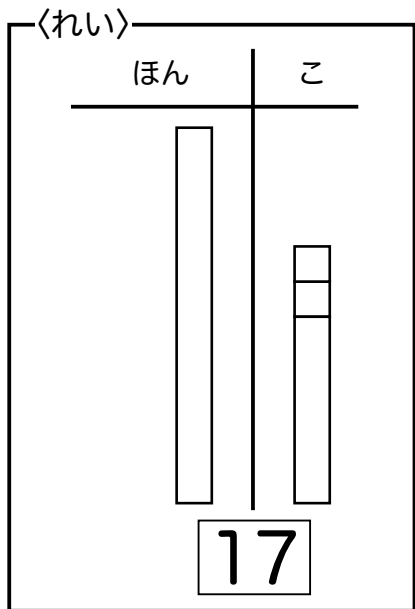
83



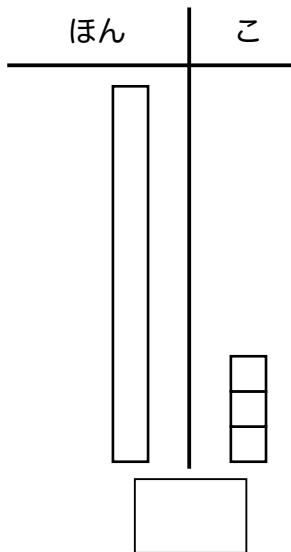
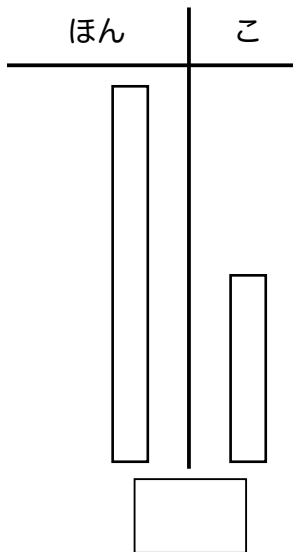
99

# 【もんだい 11】

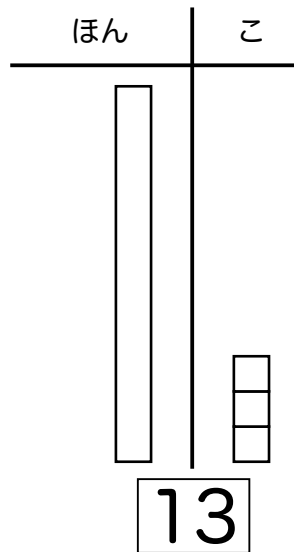
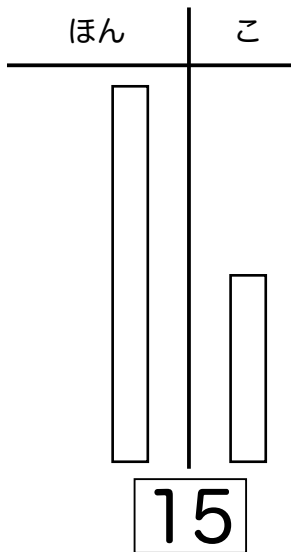
た いる  
 タイルをみて すう  
 じを しかくのなかに  
 かきましょう。



すうじをかくときは  
 ほんのかず「1」を  
 さきにかきます。

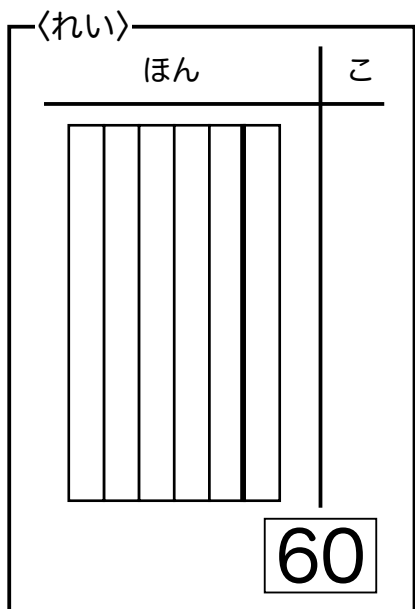


【もんだい 11 のこたえ】



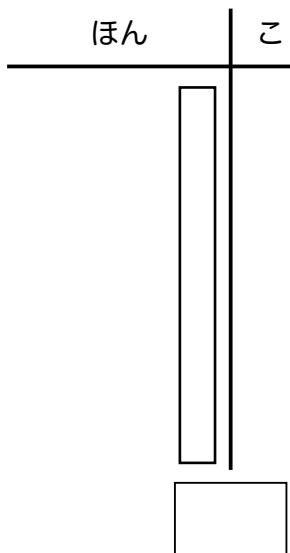
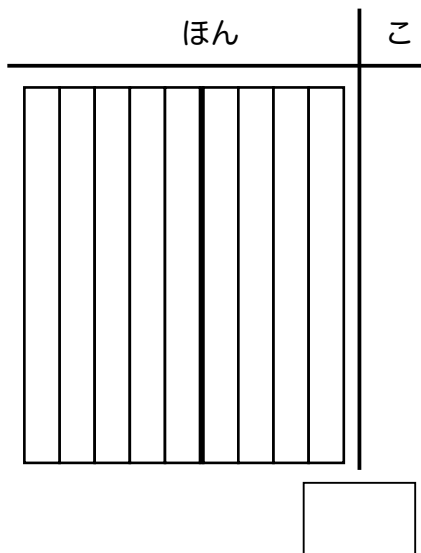
【もんだい 12】

たいる  
 タイルをみて すう  
 じを しかくのなかに  
 かきましょう。

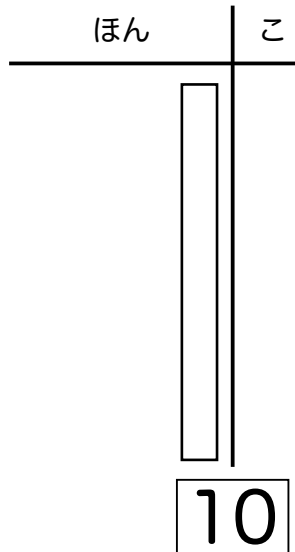
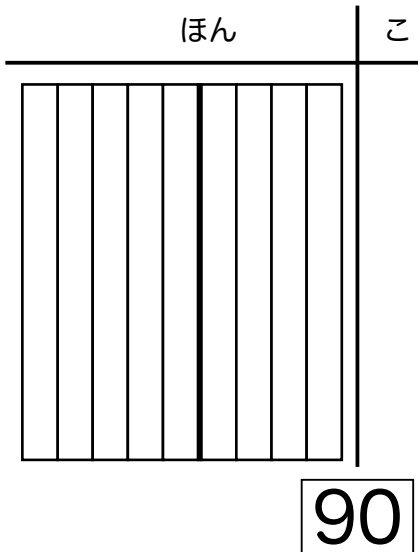


すうじをかくときは  
 ほんのかず「6」を  
 さきにかきます。

0この「0」を か  
 きわすれないようにし  
 ましょう。



【もんだい 12 のこたえ】



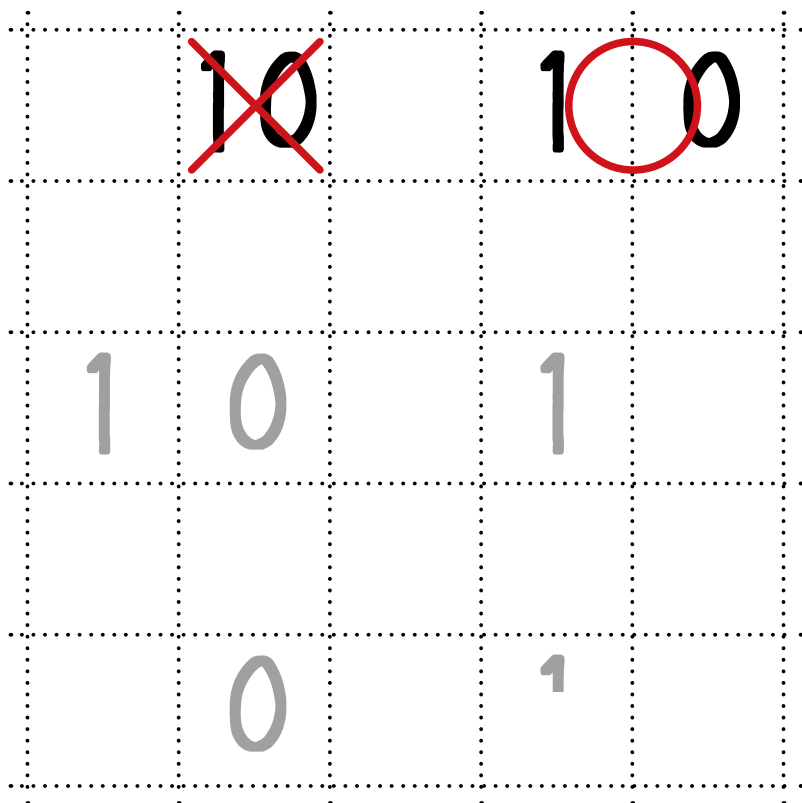
## 10のかきかた

10は 1ぽんと0こ のことで、1と0はべつべつのすうじです。

ノートでは、1も0も ひとつのますに ひとつずつかきます。

### 【れんしゅう 3】

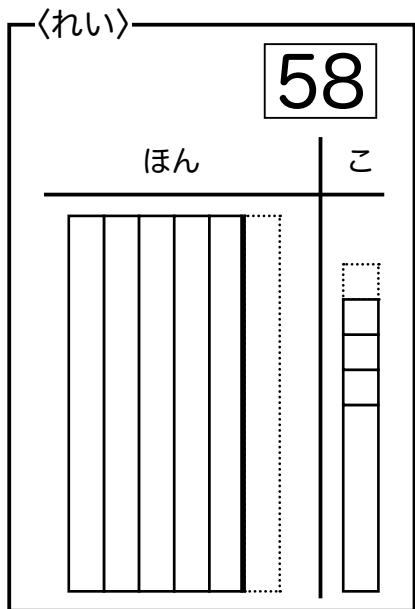
10をかきましよう。



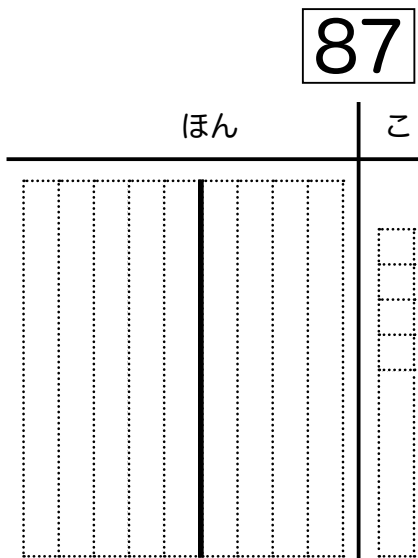
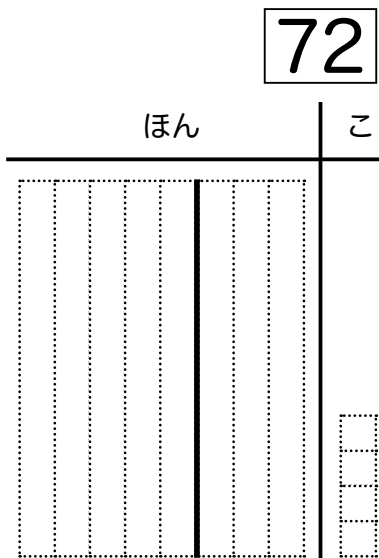


【もんだい 13】

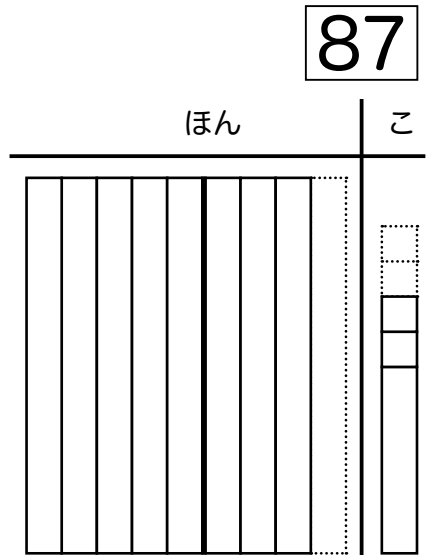
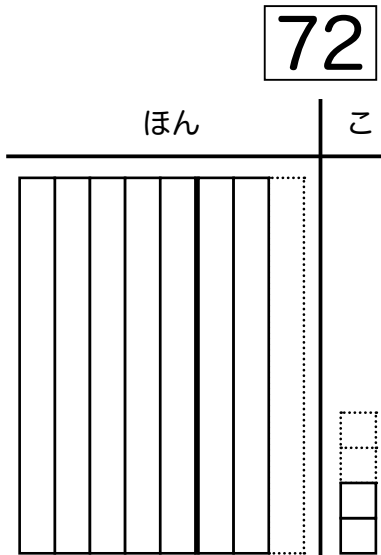
すうじをみて <sup>たい</sup>タイ  
<sub>る</sub>ルを かきましょう。



すうじのかずだけ  
 てんせんをなぞりま  
 しょう。

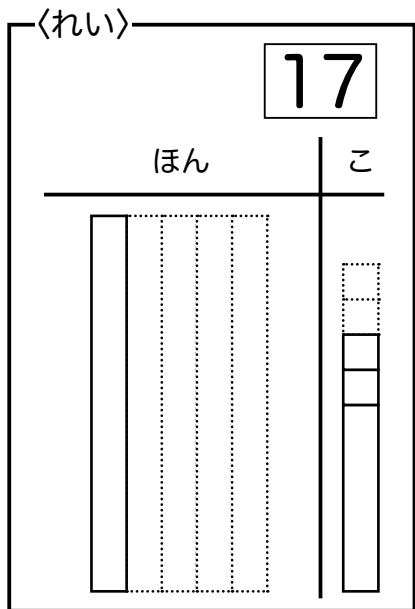


【もんだい 13 のこたえ】

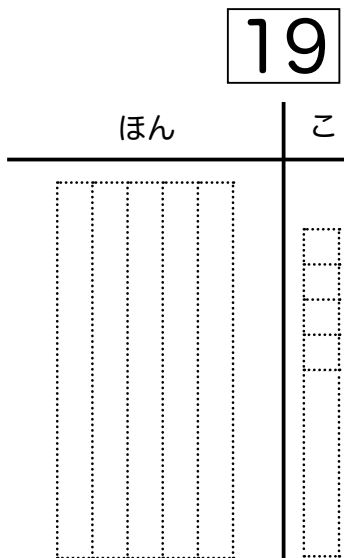
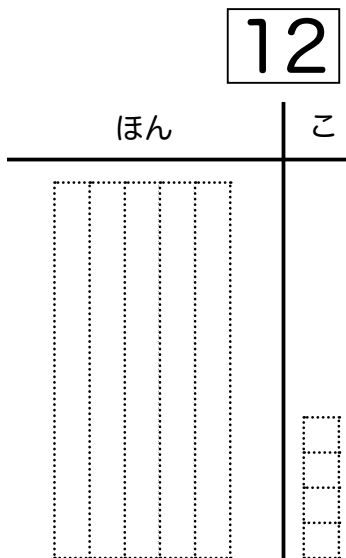


【もんだい 14】

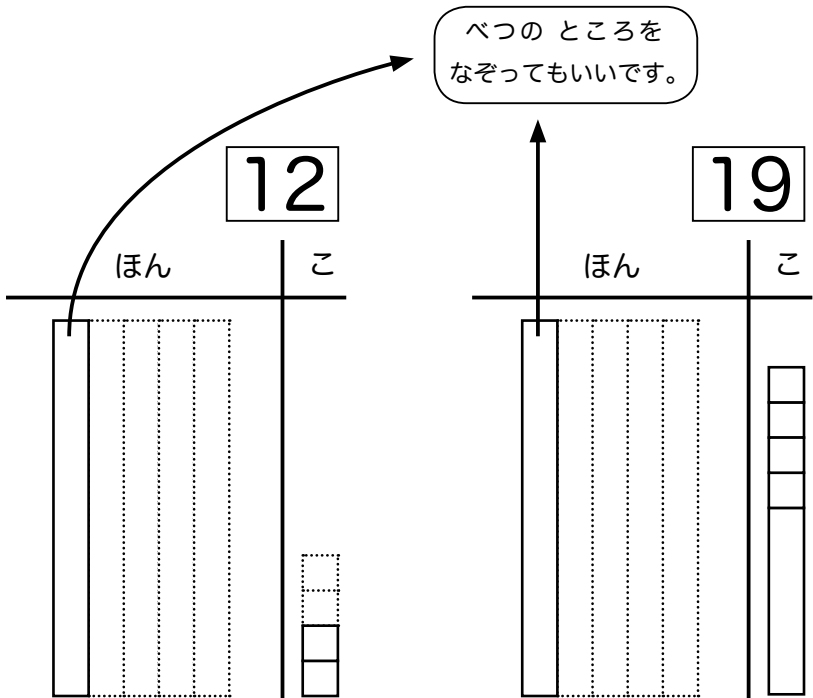
すうじをみて <sup>たい</sup>タイ  
<sup>る</sup>ルを かきましょう。



すうじのかずだけ  
 てんせんをなぞりま  
 しょう。

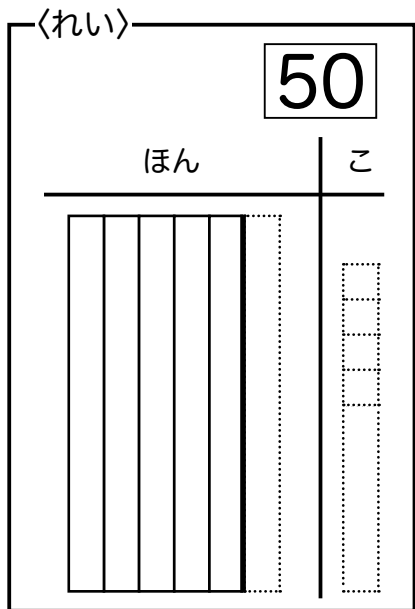


# 【もんだい 14 のこたえ】

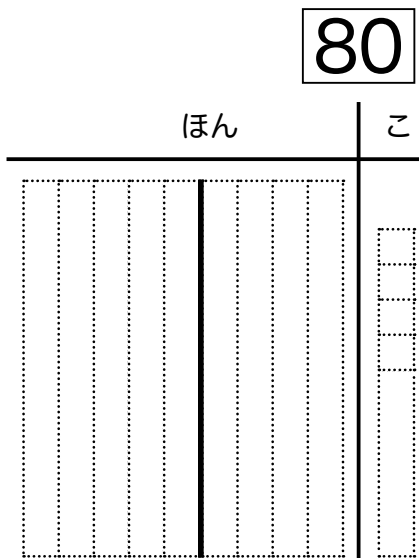
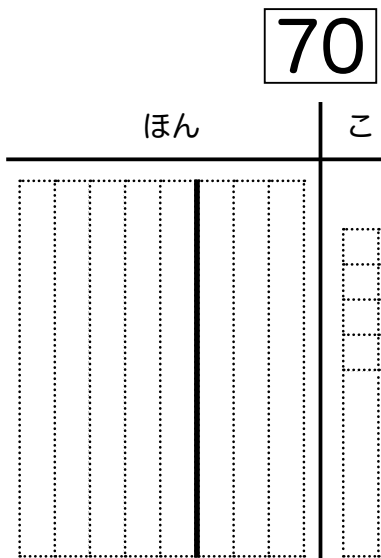


【もんだい 15】

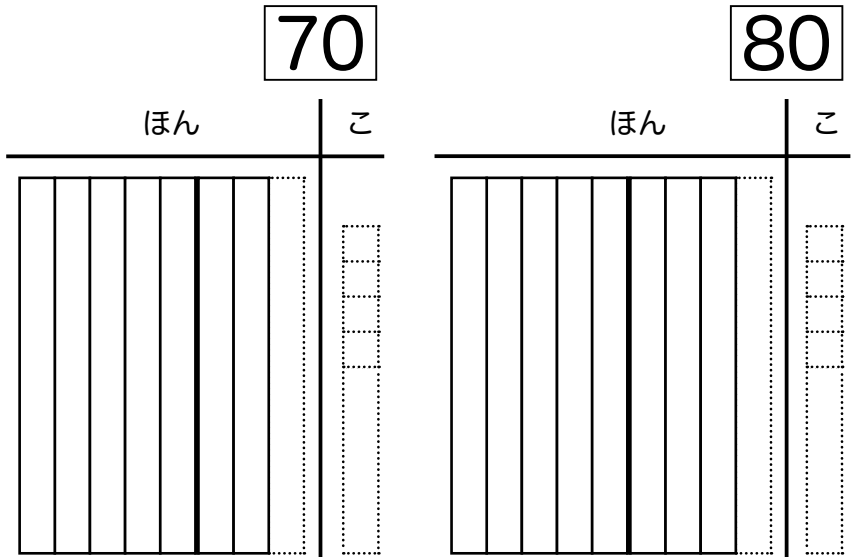
すうじをみて <sup>たい</sup>タイ  
<sup>る</sup>ルを かきましょう。



すうじのかずだけ  
てんせんをなぞりま  
しょう。



【もんだい 15 のこたえ】



## 【もんだい 16】

ただしいかきかたは つぎのどれですか。

「さんじゅうろく」

1. 306
2. 36
3. 630

「じゅうご」

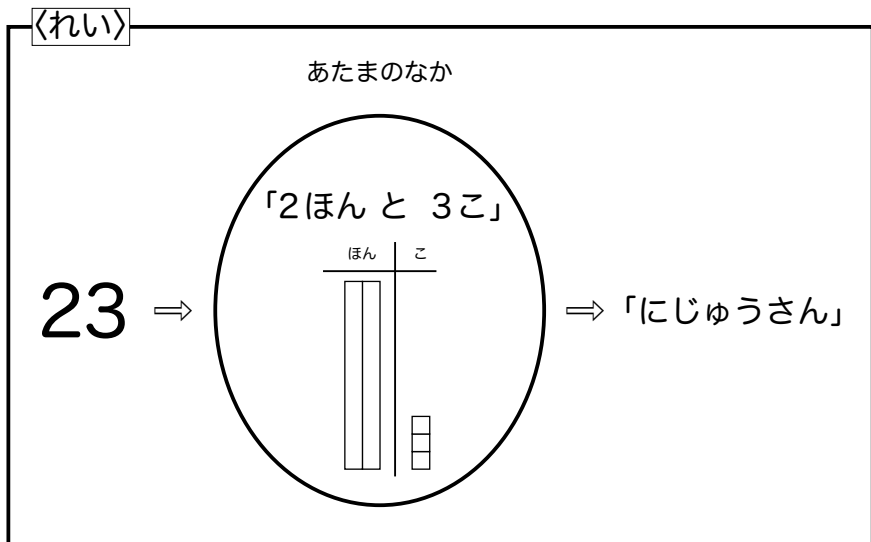
1. 105
2. 15
3. 510

「はちじゅう」

1. 810
2. 80
3. 108

# 【もんだい 17】

<sup>た</sup>いる  
タイルを かんがえながら、すうじを よみましょう。



45

86

20

79

94

50

17

83

14

62



## 【もんだい 17 のこたえ】

45 ⇒ 「4 ほん と 5 こ」 ⇒ 「し (よん) じゅうご」

86 ⇒ 「8 ぽん と 6 こ」 ⇒ 「はちじゅうろく」

20 ⇒ 「2 ほん と 0 こ」 ⇒ 「にじゅう」

79 ⇒ 「7 ほん と 9 こ」 ⇒ 「しち (なな) じゅうく (きゅう)」

94 ⇒ 「9 ほん と 4 こ」 ⇒ 「きゅうじゅうよん」

50 ⇒ 「5 ほん と 0 こ」 ⇒ 「ごじゅう」

17 ⇒ 「1 ぽん と 7 こ」 ⇒ 「じゅうしち (なな)」

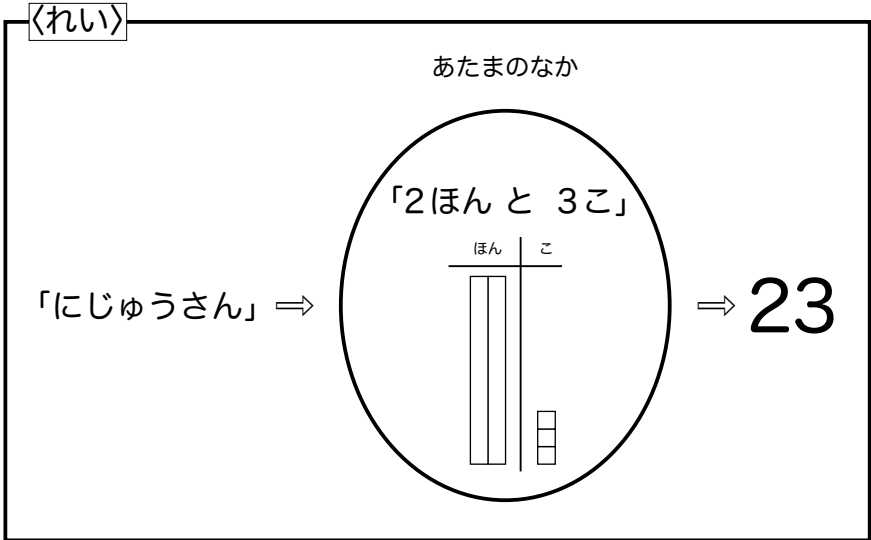
83 ⇒ 「8 ぽん と 3 こ」 ⇒ 「はちじゅうさん」

14 ⇒ 「1 ぽん と 4 こ」 ⇒ 「じゅうよん (し)」

62 ⇒ 「6 ぽん と 2 こ」 ⇒ 「ろくじゅうに」

# 【もんだい 18】

<sup>た</sup>いる  
タイルを かんがえながら、すうじを かきましょう。



よんじゅうしち ( )

しちじゅうく ( )

じゅうさん ( )

ごじゅうし ( )

じゅう ( )

はちじゅう ( )

【もんだい 18 のこたえ】

よんじゅうしち ( 47 )

しちじゅうく ( 79 )

じゅうさん ( 13 )

ごじゅうし ( 54 )

じゅう ( 10 )

はちじゅう ( 80 )

## じゅうのくらい いちのくらい

「ほん」のへや のぼしよを「<sup>じゅう</sup>十のくらい」ともいいます。「<sup>じゅう</sup>十」はかんじです。たすの「+」とよくにっていますが、すこしちがいます。

じゅう

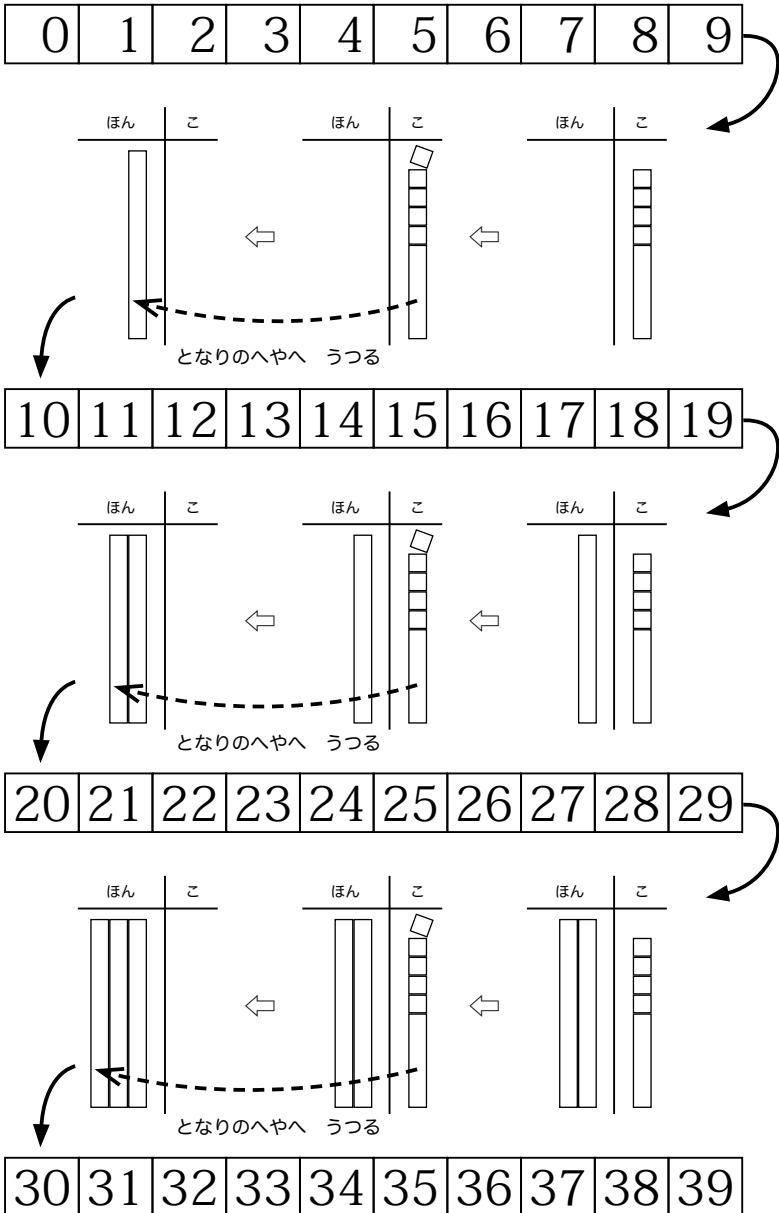
た す

「こ」のへや のぼしよは「<sup>いち</sup>一のくらい」ともいいます。「<sup>いち</sup>一」もかんじです。ひく「-」とよくにっていますが、すこしちがいます。

い ち

ひ く

# かずのひょう 1



## かずのひょう 2

0	1	2	3	4	5	6	7	8	9
10	11	12	13	14	15	16	17	18	19
20	21	22	23	24	25	26	27	28	29
30	31	32	33	34	35	36	37	38	39
40	41	42	43	44	45	46	47	48	49
50	51	52	53	54	55	56	57	58	59
60	61	62	63	64	65	66	67	68	69
70	71	72	73	74	75	76	77	78	79
80	81	82	83	84	85	86	87	88	89
90	91	92	93	94	95	96	97	98	99

かずのひょうを たてやよこにみて きづいたことを いいましょう。

## 【もんだい 19】

かずのひょうを つくりましょう。

0	1	2					7		9
10			13			16		18	
	21				25				
30				34					
						46		48	
	51								59
60							67		
				74				78	
	81								89
		92						98	

## 【もんだい 19 のこたえ】

0	1	2	3	4	5	6	7	8	9
10	11	12	13	14	15	16	17	18	19
20	21	22	23	24	25	26	27	28	29
30	31	32	33	34	35	36	37	38	39
40	41	42	43	44	45	46	47	48	49
50	51	52	53	54	55	56	57	58	59
60	61	62	63	64	65	66	67	68	69
70	71	72	73	74	75	76	77	78	79
80	81	82	83	84	85	86	87	88	89
90	91	92	93	94	95	96	97	98	99



# 【もんだい 20】

つづきを かきましょう。

15	16								24
----	----	--	--	--	--	--	--	--	----

47	48								56
----	----	--	--	--	--	--	--	--	----

63	64								72
		75						81	

	8					13		15	
	18								26
27								34	

58							65		
				72				76	
	79								87
		90						96	

## 【もんだい 20 のこたえ】

15	16	17	18	19	20	21	22	23	24
----	----	----	----	----	----	----	----	----	----

47	48	49	50	51	52	53	54	55	56
----	----	----	----	----	----	----	----	----	----

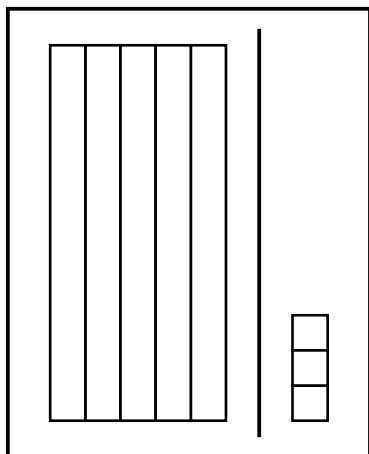
63	64	65	66	67	68	69	70	71	72
73	74	75	76	77	78	79	80	81	82

7	8	9	10	11	12	13	14	15	16
17	18	19	20	21	22	23	24	25	26
27	28	29	30	31	32	33	34	35	36

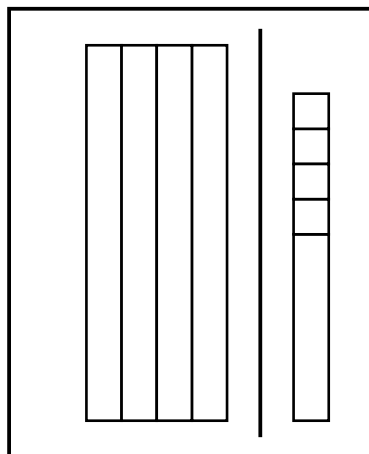
58	59	60	61	62	63	64	65	66	67
68	69	70	71	72	73	74	75	76	77
78	79	80	81	82	83	84	85	86	87
88	89	90	91	92	93	94	95	96	97

# おおきさくらべ 1

53



49



はじめに 十のぼうたイルの いかずを くらべま  
す。十のぼうたイルの いかずが おおいほうが お  
おきいです。

つまり、十のくらの「5」と「4」をくらべると  
いいです。

## 【もんだい 21】

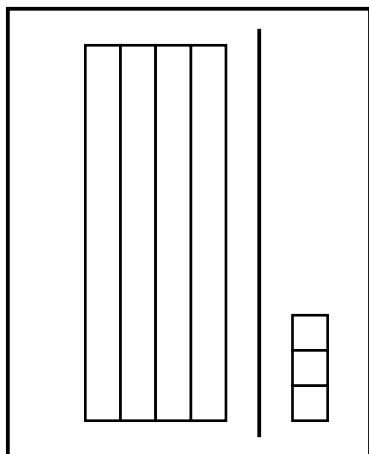
おおきいほうに まるをつけましょう。

① ( 79 , 82 )      ② ( 48 , 33 )

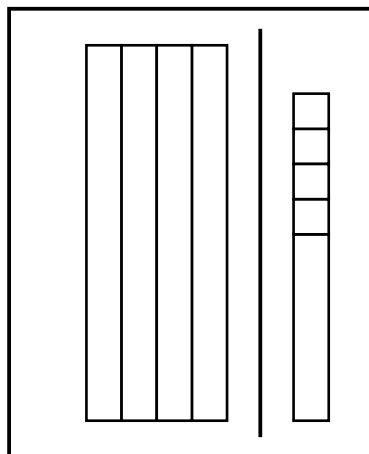
③ ( 50 , 48 )      ④ ( 8 , 80 )

## おおきさくらべ2

43



49



十のぼう<sup>たいる</sup>タイルの かずが おなじときは、「こ」  
のへやの かずが おおいほうが おおきいです。

つまり、一のくらの「3」と「9」をくらべると  
いいです。

### 【もんだい 22】

おおきいほうに まるをつけましょう。

① ( 17 , 19 )      ② ( 58 , 57 )

③ ( 68 , 66 )      ④ ( 6 , 9 )

## おおきさくらべ 1

【もんだい 21 のこたえ】

① ( 79 , 82 )      ② ( 48 , 33 )

③ ( 50 , 48 )      ④ ( 8 , 80 )

## おおきさくらべ 2

【もんだい 22 のこたえ】

① ( 17 , 19 )      ② ( 58 , 57 )

③ ( 68 , 66 )      ④ ( 6 , 9 )

# びんごげーむ ビンゴゲームをしよう

## 《じゅんぴ》

- びんごのかみ (65 ページ) に すうじをかきます。  
いちばんひだりの うえからしたまでの 5ます  
には、1 から 19 までのかずで すきなかずを  
5つかきます。おなじかずは つかえません。

## 〈れい〉

ビンゴゲーム  
なまえ (            )

9				
18				
0		○		
12				
2				
	0 ~ 19	20 ~ 39	40 ~ 59	60 ~ 79

※ すうじがでたら、あかえんびつで まるを つけましょう。


- わくのしたのかずをみて おなじことをして  
ぜんぶ すうじでうめます。
- さいころを くみたてます。(ぐるーぷに 4つ)

## 《あそびかた》

- なんにんでもいいので <sup>ぐる</sup> <sup>ー</sup> <sup>ぶ</sup>グループをつくります。
- じゅんばんに <sup>さい</sup>ころを <sup>ふ</sup>ります。さいころは <sup>十</sup>のくらいのさいころと <sup>一</sup>のくらいのさいころを <sup>ひとつ</sup>ずつ <sup>ふ</sup>ります。
- <sup>びんご</sup> <sup>か</sup> <sup>ー</sup> <sup>ど</sup>ビンゴカードに <sup>その</sup> <sup>か</sup> <sup>ず</sup> <sup>が</sup> <sup>あ</sup> <sup>っ</sup> <sup>た</sup> <sup>ら</sup>、<sup>あ</sup> <sup>か</sup> <sup>え</sup> <sup>ん</sup> <sup>び</sup> <sup>つ</sup> <sup>で</sup> <sup>ま</sup> <sup>る</sup> <sup>を</sup> <sup>つ</sup> <sup>け</sup> <sup>ま</sup> <sup>す</sup>。
- あとは、ふつうの <sup>びんご</sup> <sup>げ</sup> <sup>ー</sup> <sup>む</sup>ビンゴゲームとおなじです。

2人分です。3、6、14 ページで使います。厚めの紙を使います。5 のタイルは、赤線で切り取ります。

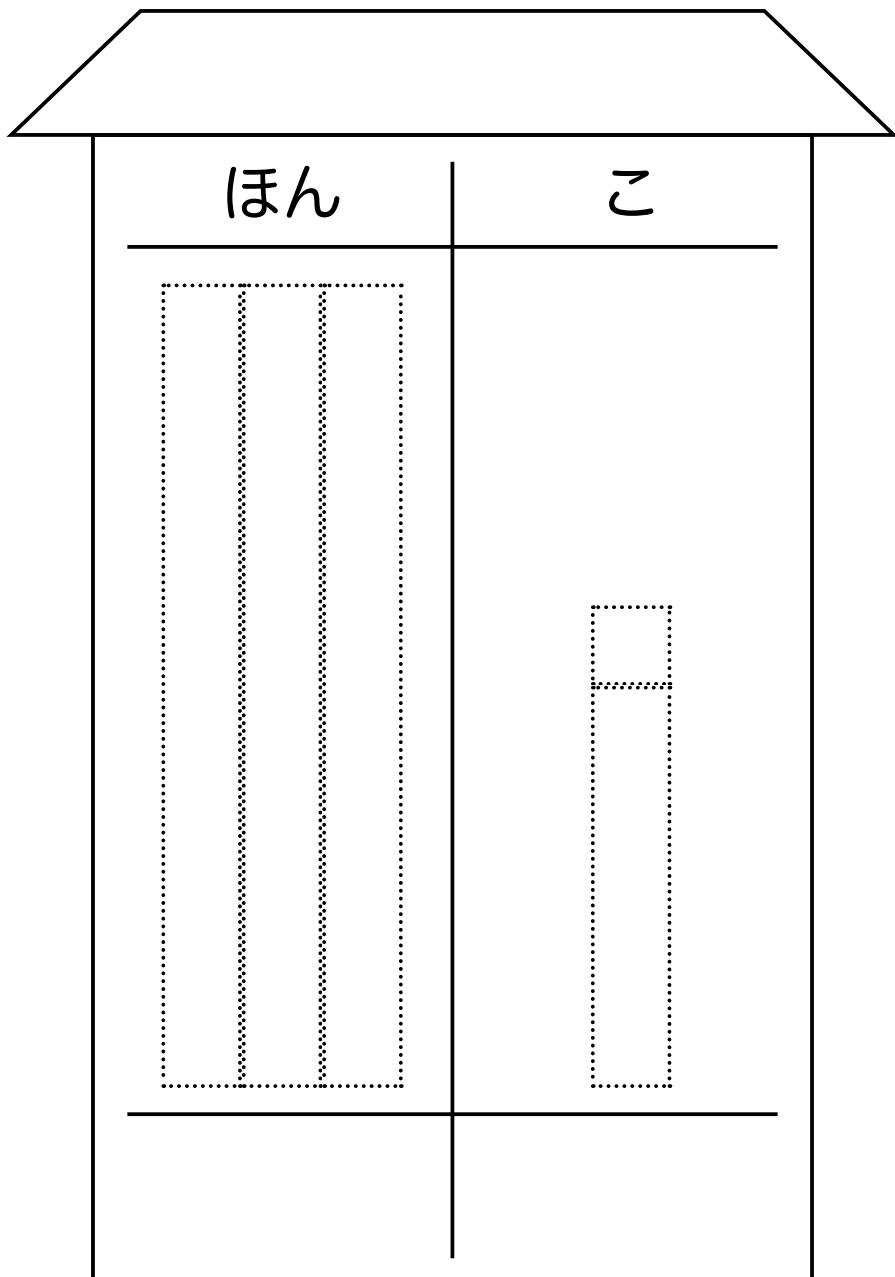
15mm 角タイルで使用するには、A4 判（141%）に拡大して印刷します。





16 ページで使います。

15mm 角タイルで使用するには、A4 判（141%）に拡大して印刷します。



びんごげーむ  
ビンゴゲーム

なまえ ( )

		○		

0 ~ 19

20 ~ 39

40 ~ 59

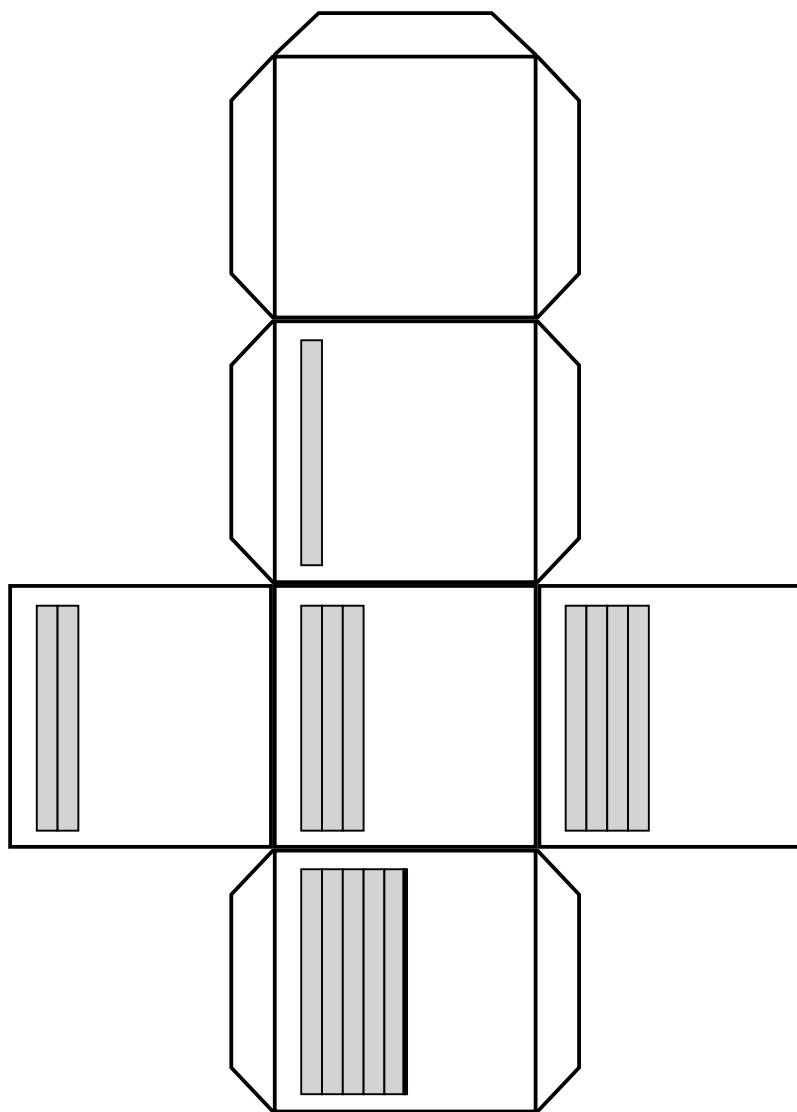
60 ~ 79

80 ~ 99

※ すうじがでたら、あかえんぴつで まるを つけましょう。

# ビンゴゲームで使うさいころ 1

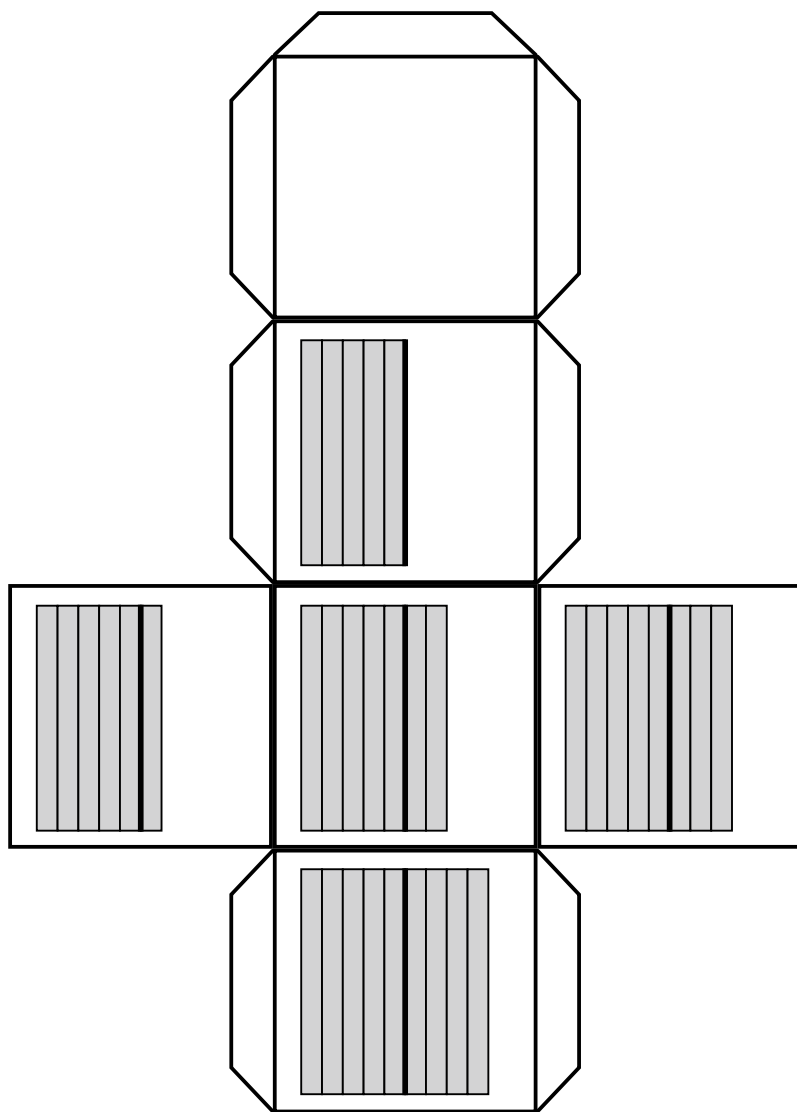
十の位のさいころ (0 10 20 30 40 50)



※一の位のさいころとは別の色を使う。

## ビンゴゲームで使うさいころ 2

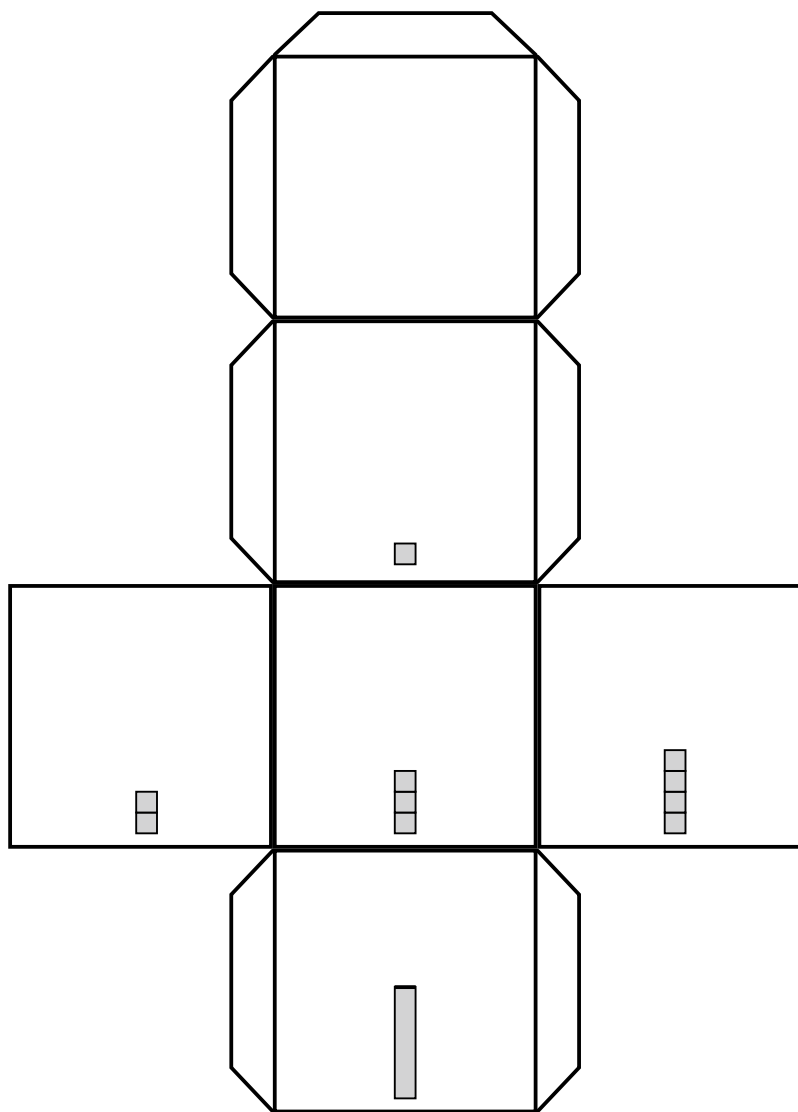
十の位のさいころ (0 50 60 70 80 90)



※一の位のさいころとは別の色を使う。

# ビンゴゲームで使うさいころ 3

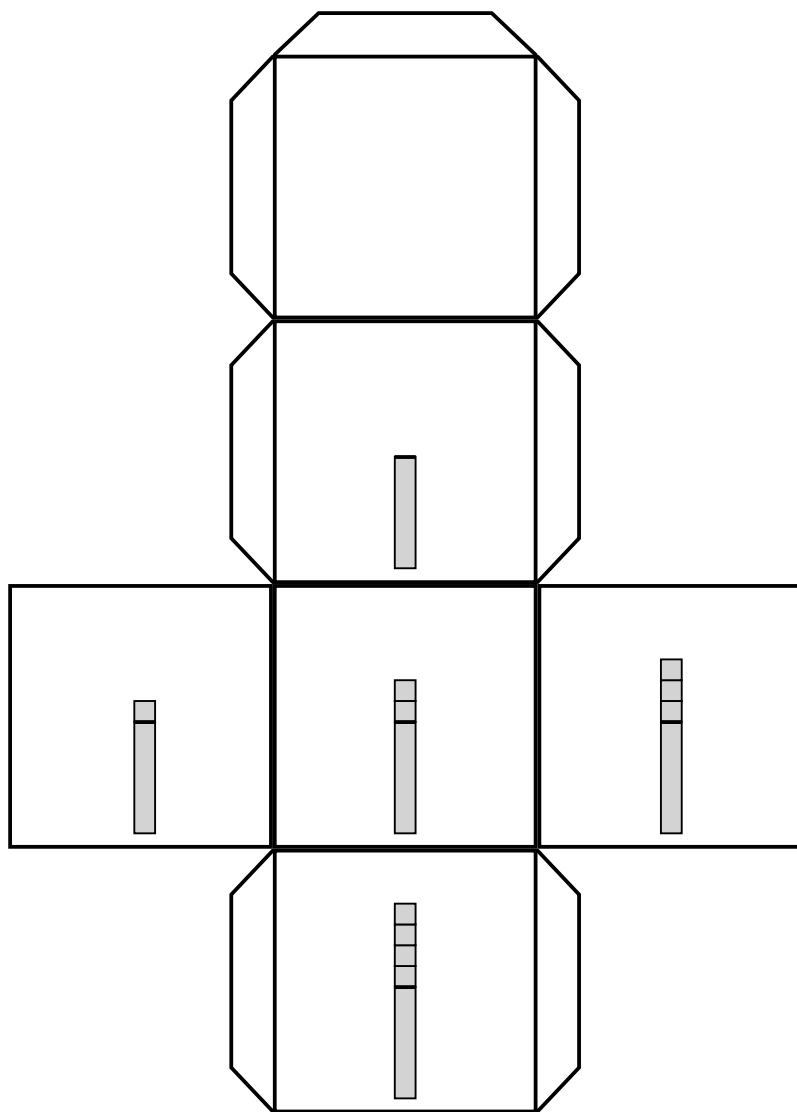
一の位のさいころ (0 1 2 3 4 5)



※十の位のさいころとは別の色を使う。

# ビンゴゲームで使うさいころ 4

一の位のさいころ (0 5 6 7 8 9)



※十の位のさいころとは別の色を使う。

## 【かんそう】

なまえ\_\_\_\_\_

このべんきょうは、たのしかったですか。どれかに○をつけましょう。

ア たのしかった

イ ふつう

ウ たのしくなかった

## 教具・材料

- 正方形（一辺 33mm）で薄型の市販のチョコレートとしては、カレ・ド・ショコラ（21 個入り 森永製菓株式会社製造）がある。
- 15mm 角のタイル  
30 個で 180 円程度。ネットで購入する場合は、<http://www.mosaic-tile-an.com> などのサイトがある。

---

## 研究文献

- 「わかる さんすうの教え方 1」（遠山啓 / 銀林浩 編 むぎ書房刊）
- 「わかる さんすう 1」（遠山啓監修 むぎ書房刊）
- 「らくらく算数ブック 1」（榊忠男・岡田進 監修 / 田中かほる 著 太郎次郎社）
- 「こまだったときの算数の教え方 1 年生」（小林道正 監修 / 山野下とよ子 著 大月書店）
- 「さんすうだいすき 6 かずってなんだ？ [99 まで]」（遠山啓 著 ほるぷ出版）
- 「新版水道方式入門 整数編」（遠山啓 / 銀林浩 編 国土社）
- 東京書籍・啓林館・大日本図書 各 1 学年算数教科書（2015 年度版）